

II Unit Test (Std.XI) - 2022-23

Subject: English

Marks: 25

Duration: 1 hrs

Date: 3-02-2023

Q.1- Read the first activity read the extract and then do all the activities :-

In north-east Sussex a great tongue of land runs into Kent. It is a land of woods- the old hammer-woods of the Sussex iron industry and among the woods gleam the hammerponds. Owing to the thickness of the woods, the road that passes Mrs. Adis's cottage is dark long before the fields beyond. That night there was no twilight and no moon, only a few Pricks of fire in the black sky above the trees. But what the darkness hid the silence revealed. In the absolute stillness of the night, windless and clear, every sound was distinct, intensified. The distant bark of a dog at Demonden sounded close at hand, and the man who walked on the road could hear the echo of his own footsteps following him like a knell.

Every now and then he made an effort to go more quietly, but the roadside was a mass of thorns, and their crackling and rustling were nearly as loud as the thud of his feet on the road, besides, they made him go slowly, and he had no time for that.

When he came to Mrs. Adis's cottage he paused a moment. Only a small patch of grass lay between it and the road, and he looked in at the lighted, uncurtained window. He could see Mrs. Adis stooping over the fire, taking some pot or kettle off it. He hesitated and seemed to wonder. He was a big, heavy, working man, not successful, judging by the poverty of his appearance. For a moment he made as if he would open the windows, then he changed his mind would open he windows, then he changed his mind and went to the door instead,

He did not knock, but walked straight in. The woman at the fire turned quickly round.

'What, you, Peter Crouch! she said. 'I didn't hear out knock.'

'I didn't knock ma'am. I didn't want anybody to hear.'

'How's that?

'I'm in trouble.' His hands were shaking a little 'What have you done?

I shot a man, Mrs. Adis.

'You?'

'Yes- I shot him.'

'You killed him?'

'I don't know.'

Q.1- Complete the web:-

	The writer describes Mrs. Adis as
→	
→	
→	
→	

(2)

Q.2- Say True/False:

(2)

- 1- Mrs. Adis was happy to see Crouch
- 2- Peter Crouch respected Mrs. Adis
- 3- Mrs. Adis was happy with Peter Crouch's friendship with Tom.
- 4- Peter Crouch had his escape all planned out

Q.3- Describe the atmosphere in the words Peter Crouch was heading towards Mrs. Adis's house. (2)

Q.4- Why does the writer conclude that the man was not successful? (2)

Q.5- Do you judge a person by his outer appearance? (2)

Q.2- Read the poem given below and do the activities that follow:

There is another sky  
 Ever serene and fair,  
 And there is another sunshine,  
 Though it be darkness there:  
 Never mind faded forest, Austin,  
 Never mind silent fields\_\_  
 Here is a little forest,  
 Whose leaf is ever green:

Here is a brighter garden,  
 Where not a frost has been;  
 In its unfading flowers  
 I hear the bright bee hum:  
 Prithee, my brother,  
 Into my garden come!

Q.1- The poet says ' Another Sky' . Guess the meaning. (2)

Q.2- Complete the following:-

The poet is addressing the poem to \_\_\_\_\_ (2)

Q.3- The poet depicts a different garden. Discuss it with your partner and write it down. (2)

(2)

Q.4- The Poem expresses feelings of serenity pick out expressions from the poem that express the same.

Q.5- Identify the figures of speech and give their proper explanation (2)

" Never mind faded forest, Austin,"

**GRAMMAR**

Q.3- Do as directed:-

1) Akbar finished E.V.S homework .( Identify the tense) (1)

2) Seema wrote an article on I.T. (Add a question tag) (1)

3) Aamir jumped \_\_\_\_\_ the well.( Choose suitable preposition " in, into, at) (1)

4) I advise you to go far out into \_\_\_\_\_ Arabic Ocean. (1)

(Choose suitable articles a, an, the)

5) Give Noun forms of : a) To fail b) To collect (1)



**Anjuman-I-Islam's  
Akbar Peerbhoy College of Commerce & Economics.**

**Subject: Organisation of Commerce & Management.**

**Date: 03 - 02 -2023. Class: FYJC. Test: 2nd unit. Marks: 25 . Duration:1hours.**

**Q.1A. Select the correct option and rewrite the sentence. 5marks.**

1. In Government company minimum \_\_\_\_\_% paid up capital is held by government.  
a)51 . b) 41. c)31.
2. \_\_\_\_\_ company has public accountability.  
a)MNC. b)Private. c) Government.
3. The main objective of private sector organisation is to earn \_\_\_\_\_.  
a)Services. b) Profit. c) Noble cost.
4. \_\_\_\_\_ came into existence on July 12,1982.  
a)NABARD. b)KVIC. c)SIDBI.
5. In April \_\_\_\_\_ KVIC was established.  
a)1955.b)1953. c)1957.

**B. Match the pairs**

**5marks.**

Group A	Group B
1.Private Sector	1. Tata Motors.
2.Public Sector	2.1944.
3. MNCs	3. 1982.
4.World bank	4.Service Motive.
5.NABARD	5.Profit Motive.

**C. State True or False.**

**5marks.**

- 1.Private sector organisation are owned by individual or group of individuals.
- 2.MNCs operates in many different countries.
- 3.Public sector organisation are owned by government.
- 4.Dr.Mohammad Yanus is known as the ' father of Rural Banking'.
- 5.The world bank is an National organization.

**Q.2. Answer in Brief (Any2)**

**6 marks.**

1. Women's Self Help Groups( Mahila Bachat Gat).
2. Objectives of KVIC.
3. Private Sector Organisation.

**Q.3. Answer the following (Any1)**

**4marks.**

1. Explain Multinational corporation and its features.
2. Write important features of NABARD.

Class : F.Y.J.C.

Examination : IInd Unit Test 2023

Date : 4/2/23

Subject : Hindi

Marks : 25

Duration : 1 Hrs.

कृति. १) निम्नलिखित पठित गद्यांश पढ़कर दी गई सूचनाओं के अनुसार कृतियाँ पूर्ण कीजिए। (०६)

एक गहन वन में दो शिकारी पहुँचे। वे पुराने शिकारी थे। शिकार की टोह में दूर-दूर घूमे थे, लेकिन ऐसा घना जंगल उन्हें नहीं मिला था। देखते ही में दहशत होती थी। वहाँ एक बड़े पेड़ की छाँह में उन्होंने वास किया और आपस में बातें करने लगे।

एक ने कहा, "ओह, कैसा भयानक जंगल है!"

दूसरे ने कहा, "और कितना घना!"

कुछ देर बात कर विश्राम करके वे शिकारी आगे बढ़ गए। उनके चले जाने पर पास के शीशम के पेड़ ने बड़ से कहा, "बड़ दादा, अभी तुम्हारी छाँह में वे कौन थे? वे गए?"

बड़ ने कहा, "हाँ गए। तुम उन्हें नहीं जानते हो?"

शीशम ने कहा, "नहीं, वे बड़े अजब मालूम होते थे। कौन थे, दादा? पहले कभी नहीं देखा उन्हें।"

दादा ने कहा, "जब छोटा था तब इन्हें देखा था। इन्हें आदमी कहते हैं। इनमें पत्ते नहीं होते, तना-ही-तना

होता है। देखा, वे चलते कैसे हैं? अपने तने की दो शाखों पर ही चलते चले जाते हैं।"

शीशम ने कहा, "वे लोग इतने ही ओछे रहते हैं, ऊँचे नहीं उठते! क्यों दादा?" दादा ने कहा, "हमारी-तुम्हारी तरह इनमें जड़ें नहीं होतीं। बड़े तो काहे पर? इसमें वे इधर-उधर चलते रहते हैं, ऊपर की ओर बढ़ना उन्हें नहीं आता। बिना जड़ न जाने वे जीते किस तरह हैं।"

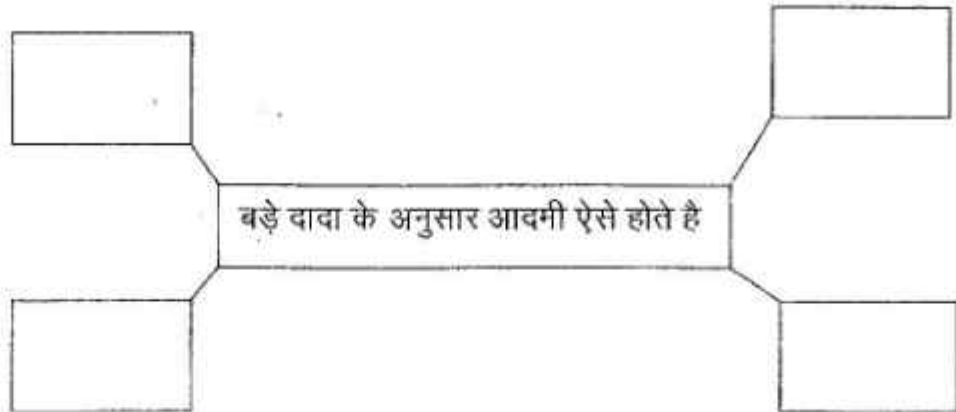
इतने में बबूल, जिसमें हवा साफ़ छनकर निकल जाती थी, रुकती नहीं थी और जिसके तन पर कटि थे, बोला, "दादा, ओ दादा, तुमने बहुत दिन देखे हैं। यह बताओ कि किसी वन को भी देखा है। ये आदमी किसी भयानक वन की बात कर रहे थे। तुमने उस भयावने वन को देखा है?"

शीशम ने कहा, "दादा, हाँ सुना तो मैंने भी था। वह वन क्या होता है?"

बड़ दादा ने कहा, "सच पूछो तो भाई, इतनी उमर हुई, उस भयावने वन को तो मैंने भी नहीं देखा। सभी जानवर

१) संजाल पूर्ण कीजिए :

(०२)



२) आकृति पूर्ण कीजिए :

(०२)

- १) एक गहन वन में वे पहुँचे -
- २) इसकी टोह में दूर - दूर तक घूमे थे -
- ३) देखते ही जी में यह होती थी -
- ४) एक बड़े पेड़ की छाँह में वे यह करने लगे -

३) "वन्य जीव और शिकार" विषय पर ४० से ५० शब्दों में अपना मत लिखिए।

(०२)

...२

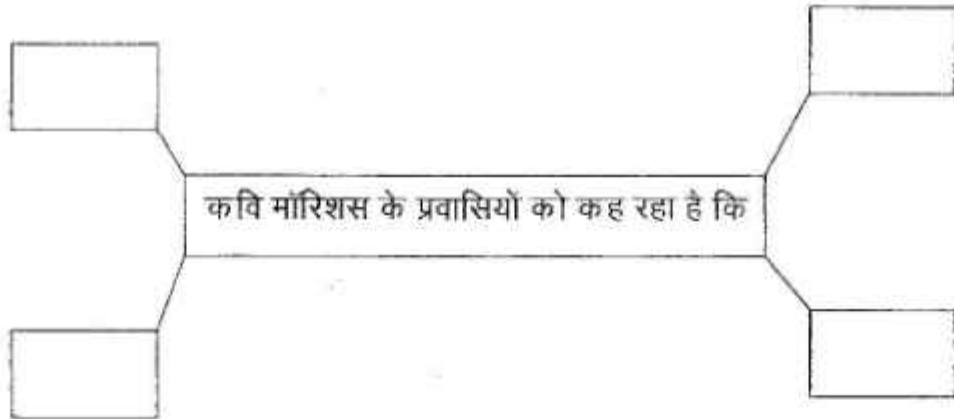
कृति. २) निम्नलिखित पद्यांश पढ़कर सूचना दी गई सूचना के अनुसार कृतियाँ पूर्ण कीजिए। (०६)

भूल जाओ वह पुरानी कथा  
मेरे हृदय के टुकड़ों !  
भूल जाओ वह जहाजी कारनामे  
जो होना था प्रारम्भ में,  
वही तो हुआ हम सबके साथ  
अब रोना, रोने से क्या होगा ?  
जहाजी प्रणयन को सोचना क्या,  
आज तो हम मिल ही रहे हैं,  
युग-युगांतरों बाद  
देखो, हम सब कैसे साथ हैं आज,  
लघु भारत के प्रांगण में !  
स्वागत है !

पनिया-जहाज पर कौन चढ़ेगा अब भैया,  
बड़ा डर लग रहा है उससे तो  
कहीं पुनः दोहरा न दे इतिहास हमारा  
इस-उस धरती पर बिखर न जाएँ,  
खोजते हुए निज बंधुओं को  
आसमान की राह पकड़ आगे चल,  
मॉरिशस की भूमि पर उतरेंगे सब  
नैहर हो जैसे वही हमारा  
बाबुल के लोग वहीं मिलेंगे  
देश परदेश के नाम मिटेंगे,  
आँसू थामे वहीं मिलेंगे  
स्वागत है !

१) संजाल पूर्ण कीजिए :

(०२)



२) सही विकल्प चुनकर वाक्य चुनकर वाक्य फिर से लिखिए :

(०२)

१) हम सब आज \_\_\_\_\_ भारत के प्रांगण में मिल रहे हैं।

( नए / लघु / विशाल )

२) पानी के जहाज पर बैठते हुए बड़ा \_\_\_\_\_ लग रहा है।

( अच्छा / नयापन / डर )

३) निम्नलिखित पंक्तियों के भाव को अपने में व्यक्त कीजिए :

(०२)

लंगर पड़ा जब समुद्र तट पर, इक्का - बक्का ताकने लगे,

अरे ! कहाँ आ गए हम इतनी दूर !

अरे ! मेरे भाई - भतीजे कहाँ हैं ?

- कृति. ३) निम्नलिखित प्रश्नों के उत्तर ४० से ५० शब्दों में लिखिए। (०३)
- १) 'रेडिओ जाँकी' के लिए आवश्यक गुण लिखिए।
  - २) आर. जे. के महत्वपूर्ण कार्य पर प्रकाश डालिए।

- कृति. ४) निम्नलिखित अपठित गद्यांश पढ़कर दी गई सूचनाओं के अनुसार कृति पूर्ण कीजिए। (०६)

**सरपंच** - शांभा, अरे ओ शांभा... (बिगलानकर) अरे ओ शांभा।  
**शांभा** - हाँ हुजूर! (मागता हुआ आवाज है।)  
**सरपंच** - कहीं मर गया था रे?  
**शांभा** - साहब, वे - जो आदमी साए मर हैं उनसे मुहताज कर रहा था।  
**सरपंच** - कितने आदमी साए हो तुम?  
**शांभा** - साहब तीन आदमी लाका हूँ।  
**सरपंच** - देखो... एक-एक करके हमारे नामने पेश करो।  
**शांभा** - वैसी साब की आज्ञा।  
 (पुनः ठक् ठक् ठक् घूमते हुए साहब के भारी कूहों की आवाज)  
**शांभा** - साहब ये पहला आदमी है।  
**सरपंच** - हाँ... क्या मसूर है या भेंड़िया मार?  
**शांभा** - साहब बल रात यह भेंड़िया घने जंगलों में चोरी से पेड़ काटता पाया गया। आपके हुकम से लोग हजारों पेड़ लगा रहे हैं। लेकिन यह पापी उन पेड़ों को काटकर बेच देता है।

**सरपंच** - अच्छा! बोरो करता है... कारा पंथा करता है - बहुत बेइन्साफी है। उसे सज़ा मिलेगी, चराचर मिलेगी। क्या तुम नहीं जानते पेड़ों से हमें कितना लाभ है?  
**भोलाराम** - हुजूर, हमने बोड़े से पेड़ काटे हैं, अब हम कभी पेड़ नहीं काटेंगे, उनको ज़ी ज़ाम से प्यार करेंगे। माई-बाप एक बार मुझे माफ़ कर दो, इसके बदले मैं आपकी खिदमत में एक बेहतरीन तोहफा पेश करूँगा। केवल एक बार माफ़...।  
**सरपंच** - अच्छा, रिक्त की बात करता है। इस पाप के धंधे में हमें भी मिलाना चाहता है... पामल कहीं मर... शांभा मुना तो दे जरा इसे सज़ा।  
**शांभा** - हमारे प्यारे सरपंच के हुकम के अनुसार इस पेड़ काटने वाले भोलाराम को सज़ा दी जाती है कि अपने जीवन में यह एक-सौ पेड़ लगाए और उनकी देखभाल भी करे। ऐसा न करने पर इस पेड़ काटने वाले का पेट खर दिया जाए।  
**भोलाराम** - भेंजूर है हमको।  
**सरपंच** - जाओ, ले जाओ इन्करो!

- १) संजाल पूर्ण कीजिए :

(०२)



- २) निम्नलिखित शब्दों के विरुद्धार्थी शब्द लिखिए :

(०२)

१) पहला X

२) सज़ा X

३) लाभ X

४) बेइन्साफी X

- ३) 'पेड़ों से लाभ' विषय पर ४० से ५० शब्दों में अपने विचार लिखिए।

(०२)

कृति. ५) अ) निम्नलिखित मुहावरों का अर्थ लिखकर वाक्यों में प्रयोग कीजिए। (कोई दो)

(०२)

- १) मुँह की खाना, २) फूँक - फूँक कर कदम रखना,  
३) सिर खाना, ४) कलाई खुलना.

आ) निम्नलिखित वाक्यों को शुद्ध करके फिर से लिखिए। (कोई दो)

(०२)

- १) उसे तुम्हारे शक्ति पर विश्वास हो गया।  
२) हमारा तो सबसे प्रीती है।  
३) उसे तो मछुवे पर दया करना करना चाहिए था।

.....  
...समाप्त...



# انجمن اسلام اکبر پیر بھائی کالج کامرس اینڈ انامس

دوسرا یونٹ ٹیسٹ ۲۳ ~ ۲۲

مارکس :- ۲۵

مضمون :- اردو

جماعت :- XI

تاریخ :- 04/02/2023

درج ذیل اقتباس کا مطالعہ کر کے دی ہوئی سرگرمیاں مکمل کیجیے۔

شجری خاکہ مکمل کیجیے۔

	ٹرین کی کھڑکی سے نظر آنے والے مناظر	

میں اچانک ماضی کی بھول بھلیوں سے نکل کر لاہور کے مضافات میں پھیلے ہوئے کھیتوں، اینٹوں کے بھٹوں، چھوٹے چھوٹے قصبائی مکانوں اور چھوٹی چھوٹی مسجدوں کے مناروں کے درمیان پہنچ جاتا ہوں۔ میں محسوس کرنے لگتا ہوں میرے ہاتھوں میں جو تازہ ہوا آ رہی ہے وہ میری جانی پہچانی ہی ہے۔ میں اس کی خوشبو سونگھ کر بتا سکتا ہوں کہ یہ میرے لاہور سے آ رہی ہے۔ پنجاب کے اس حصے سے آ رہی ہے جسے میں کبھی بھلا نہیں پایا۔ میں ٹرین کی کھڑکی میں سے بڑی خاموشی سے تیزی سے گزرتے ہوئے واقعہ ٹاوروں اور اونچی اونچی گھاس اور مٹی میں چھپے ہوئے یل باکسوں کی طرف دیکھتا ہوں۔ اب تو یہاں کچھ بھی نہیں ہے۔ صرف ہوا ہے اور دھوپ ہے۔ خوشبو ہے اور کھیتوں میں ہر طرف اگے ہوئے سنہری گندم کے لہلہاتے ہوئے خوشے ہیں اور ریل کی پٹری کے متوازی دوڑتی ہوئی ایک سڑک ہے۔ جس پر دو جاپانی کاریں آگے پیچھے دوڑ رہی ہیں اور ایک جو ہڑ کے سامنے کئی پھینسیں بیٹھی ہوئی ہیں جن کی طرف ذرا فاصلے پر ایک چمکڑے کے پیسے کے ساتھ بندھا ہوا ایک اونٹ فلیٹوں کی سی گھبرتا سے ایک تک دیکھ رہا ہے اور ایک بیڑ کے نیچے ایک گہرو لیٹے لیٹے بانسری بجا رہا ہے اور ایک مکان کے آگے کی دیوار پر کوئی دو شیزہ دھوپ میں سوکتے ہوئے رکھیں کہیں کوالت پلٹ کر دیکھتے دیکھتے اچانک گاڑی کی طرف متوجہ ہو گئی ہے۔

پھر میری نظروں کے سامنے مغل پورہ ورکشاپ کے شیڈوں کے چمکتے ہوئے ٹین ابھر آتے ہیں۔ یہیں کہیں میں پانچ سال تک بطور اینٹس خراہشیں کا کام سیکھتا رہا تھا۔ ریل کا شور اچانک بڑھ گیا ہے۔ اب گاڑی یارڈ میں داخل ہو گئی ہے۔ دونوں طرف مال گاڑیوں کا سلسلہ ہے جس سے نکلتے ہی اچانک مجھے لاہور کا سائن بورڈ دکھائی دے جاتا ہے اور گاڑی پلیٹ فارم پر پہنچ کر رک جاتی ہے۔ اس ڈبے میں میرا ہم سفر علی عباسی جسنی مرحوم کا ایک رشتے دار ہے جسے کراچی جانا ہے۔ وہ اور میں دونوں کتنی دیر سے خاموش ہیں۔



(2) درج ذیل الفاظ کے معنی اقتباس سے تلاش کر کے لکھیے

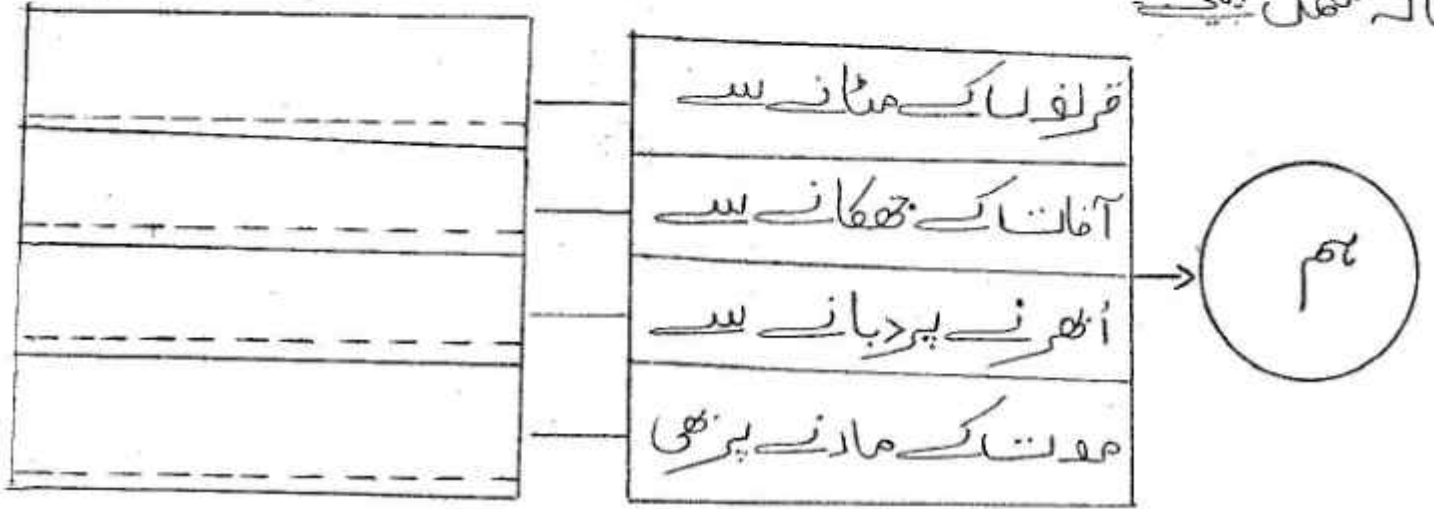
## II کیمالاتاب

I نوجوان

(3) ٹرین کی کھڑکی سے نظر آنے والے مناظر کو اپنے الفاظ میں بیان

کیجیے  
درج ذیل درسی نظم کا مطالعہ کر کے دی ہوئی سرگرمیاں مکمل کیجیے

-1 خاکہ مکمل کیجیے



قرنوں کے مٹانے سے مٹے ہیں ، نہ مٹیں گے  
آفاتِ زمانہ سے بچکے ہیں ، نہ جھکیں گے  
اُبھرے تو دبانے سے دبے ہیں ، نہ وہیں گے  
ہموت کے مارے بھی مرے ہیں ، نہ مریں گے  
ہم زندہ تھے ، ہم زندہ ہیں ، ہم زندہ رہیں گے

گو بحر و بر و چرخ مٹانے پہ تلے ہیں  
اُبھرے ہوئے کہسار کے تیور بھی کڑے ہیں  
بے درد عناصر بھی بہت بچھے ہوئے ہیں  
بن بن کے مٹے جائیں گے ، مٹ مٹ کے نہیں گے  
ہم زندہ تھے ، ہم زندہ ہیں ، ہم زندہ رہیں گے

انسان ہے اور چار طرف وادی پُر خار  
پڑھوں مناظر کا وہ ماحول شربار  
وہ بولتے سناتے ، وہ زندانِ شبِ تار  
کنوڑ ہیں پر جبر سے فطرت کی لڑیں گے  
ہم زندہ تھے ، ہم زندہ ہیں ، ہم زندہ رہیں گے

دوسرے بند میں آئی ہوئی صنعتوں کے نام لکھئے۔  
 نظم کے تیسرے بند میں "دنیاوی تکلیف" اور "انسان کے حوصلے"  
 کے بارے میں لکھیے۔

درج ذیل درسی غزل کا بغور مطالعہ کر کے دی ہوئی سرگرمیاں  
 یا ایات کے مطابق مکمل کیجیے۔

(۱) مناسب الفاظ کی مدد سے خالہ مکمل کیجیے۔

	←	وفا
	←	منرا
	←	حیا
	←	سزا

درد و دل آج بھی ہے، جوش آج بھی ہے  
 زخم کھانے کا، محبت میں حرا آج بھی ہے  
 گری عشق نگاہوں میں نہیں ہے، نہ سہمی  
 مسکراتی ہوئی آنکھوں میں حیا آج بھی ہے  
 حسن پابندِ قفس، عشق اسیرِ آلام  
 زندگی، جرمِ محبت کی سزا آج بھی ہے  
 بندش لب کے قوانین وہی ہیں، اے دوست  
 زہر آمیز زمانے کی فضا آج بھی ہے  
 دستِ مزدور سے ابھی ہوئی زنجیریں ہیں  
 آہنی ہاتھوں پہ یہ ظلم روا آج بھی ہے  
 غم کدوں پر ہیں وہی جنگ کے بادل چھائے  
 امن کی گونجتی ہر سمت عدا آج بھی ہے  
 اپنے آلام و مصائب کا وہی ہے درماں  
 درد کا حد سے گزرتا ہی دوا آج بھی ہے  
 میر و غالب کے زمانے سے نئے دور تک  
 شاعر ہند گرفتار بلا آج بھی ہے

۲۔ غزل سے زیرِ افسافت و ابے لفظ تلاش کر کے لکھیے۔ ۱

۳۔ درج ذیل شعری استعمسانی و ضاحت کہیے ۲

غم کدوں پر ہیں وہی جنگ کے بادل تھکے

امن کی گونجی ہر سمت انداز بھی ہے

۱۔ ہدایات کے مطابق ذیل کی سرگرمیاں مکمل کہیے ۱

درج ذیل محاوروں کو تھکے میں استعمال کہیے۔ (کوفی ایک)

(i) تپس نہیں کرنا (ii) کلیبی پتھر بدو جانا

۲۔ آدو لغت الفیسی کے یہ ابتدائی نقوش بے قاعدہ ہیں۔ ۲

(تھکے کا خودی تجزیہ کہیے)

۱۔ ہدایات کے مطابق ذیل کی سرگرمیاں مکمل کہیے۔

(i) درج ذیل اشعار میں نہ کسی ایک شعری تجنیس پہچان کر نام لکھیے

دیف اڑھڑی کرتے ہوئے راہ میں راہی

کہتا ہے کہ سایے کو شجر آئے نہ آئے

پیردے اٹھ جائیں جب جدائی کے

حال اُس دم کھلیں خدائی کے

(ii) درج ذیل اشعار میں سے کسی ایک شعری تقطیع کہیے اور بحر کا نام لکھیے

وہی لو لتا ہے جو میں لو لتا ہوں

اگر وہ ہے بلبل تو متقار میں ہوں

دلایا جس نے حق انسان کو عالی تباری کا

شکستہ کر دیا ٹھوکر سے بت سرمایہ داری کا

Anjuman-i-Islam's  
**AKBAR PEERBHOY COLLEGE OF COMMERCE & ECONOMICS**  
M.S.Ali Road, Do Taaki, Grant Road (E), Mumbai-400 008.

**IIInd Unit Test - (Std.XI) – 2022-23**

**Subject: Book-Keeping & Accountancy    Marks: 25    Duration: 1 hrs    Date : 04-02-2023**

**Q.1- (A) Fill in the blanks** (5)

- 1- Any entry recorded on both sides of cash book is known as \_\_\_\_\_ entry  
a) opening                      b) transfer                      c) contra
- 2- Decrease in the value of fixed assets is known as \_\_\_\_\_  
a) Appreciation              b) Depreciation              c) Combination
- 3- Direct deposit made by customer into our bank is recorded in the \_\_\_\_\_ side of the cash book  
a) payments                      b) credits                      c) receipts
- 4- The amount of depreciation reduces year after under \_\_\_\_\_  
a) Fixed Installment method              b) Reducing Balance method              c) Revaluation method
- 5- The balance of depreciation account is transferred to \_\_\_\_\_  
a) Trading A/c                      b) Profit & Loss A/c                      c) Manufacturing A/c

**B- True or False** (5)

- 1- Depreciation increase the value of the Assets
- 2- Cash book records transaction relating to receipts and payments of cash
- 3- Depreciation is charged on fixed assets
- 4- Trade discount is recorded in cash book
- 5- Depreciation in an income

**Q.2- Prepare double column cash of Sundar and Company.** (15)

January 2019-

- |    |   |
|----|---|
| 01 | Started business with cash Rs.100000                                |
| 04 | Cash deposited into Bank of India Rs. 25,000                        |
| 08 | Cash purchases Rs. 6000   |
| 10 | Purchased Laptop for office use Rs. 22000                           |
| 12 | Sold goods to Prakash & Co. and received a bearer cheque Rs. 10,000 |
| 20 | Prakash's cheque deposited into bank                                |
| 23 | Paid Carriage Rs. 300   |
| 25 | Cash withdrawn for personal use Rs. 3000                            |
| 26 | Paid Rent by cheque Rs. 1000  |
| 28 | Purchases stationery and paid by cheque Rs.1200                     |
| 30 | Received crossed cheque from Prabhakar Rs. 6000                     |

Anjuman-i-Islam's  
**AKBAR PEERBHOY COLLEGE OF COMMERCE & ECONOMICS**  
M.S.Ali Road, Do Taaki, Grant Road (E), Mumbai-400 008.

**IIInd Unit Test - (Std.XI) – 2022-23**

**Subject: Book-Keeping & Accountancy    Marks: 25    Duration: 1 hrs    Date : 04-02-2023**

**Q.1- (A) Fill in the blanks**

- 1- Any entry recorded on both sides of cash book is known as \_\_\_\_\_ entry (5)
- a) opening                      b) transfer                      c) contra
- 2- Decrease in the value of fixed assets is known as \_\_\_\_\_
- a) Appreciation              b) Depreciation              c) Combination
- 3- Direct deposit made by customer into our bank is recorded in the \_\_\_\_\_ side of the cash book
- a) payments                      b) credits                      c) receipts
- 4- The amount of depreciation reduces year after under \_\_\_\_\_
- a) Fixed Installment method              b) Reducing Balance method              c) Revaluation method
- 5- The balance of depreciation account is transferred to \_\_\_\_\_
- a) Trading A/c                      b) Profit & Loss A/c                      c) Manufacturing A/c

**B- True or False**

- 1- Depreciation increase the value of the Assets
- 2- Cash book records transaction relating to receipts and payments of cash
- 3- Depreciation is charged on fixed assets
- 4- Trade discount is recorded in cash book
- 5- Depreciation in an income

**Q.2- Prepare double column cash of Sundar and Company.**

January 2019-

- 01                      Started business with cash Rs.100000
- 04                      Cash deposited into Bank of India Rs. 25,000
- 08                      Cash purchases Rs. 6000
- 10                      Purchased Laptop for office use Rs. 22000
- 12                      Sold goods to Prakash & Co. and received a bearer cheque Rs. 10,000
- 20                      Prakash's cheque deposited into bank
- 23                      Paid Carriage Rs. 300
- 25                      Cash withdrawn for personal use Rs. 3000
- 26                      Paid Rent by cheque Rs. 1000
- 28                      Purchases stationery and paid by cheque Rs.1200
- 30                      Received crossed cheque from Prabhakar Rs. 6000

F.Y.J.C.  
 Time: 60 mins.

Mathematics & Statistics (88)

Max. Marks  
 Date: 06 / 01 / 20

**General Instruction:**

- 1) All questions are compulsory
- 2) Use of algorithmic table is allowed. Use of calculator is not allowed
- 3) Start answer o each question on a new page.

**Q.1 A Select and write the correct answer of the following multiple choice of questions (1 mark each)**

- i) If  $r > 0$ , the correlation is .....  
 a) positive b) negative c) no correlation d) none of the above
- ii) Correlation is the study of mutual or joint relationship between .....  
 a) two variables b) one variable c) multivariable d) none of the above
- iii) If any two rows (or columns) of a determinant are ..... then the value of the determinant is zero  
 a) identical b) interchange c) non identical d) none of the above
- iv) If any two rows (or columns) of a determinant are ..... then the value of the determinant changes only in sign.  
 a) identical b) changed c) interchanged d) none of the above
- v) If the value of the determinant is zero then the area of  $\Delta ABC$  is.....  
 a) collinear b) one c) zero d) none of the above
- iv) If each element of a row (or column) is expressed as the sum of two numbers then the determinant can be expressed as ..... of two determinants  
 a) difference b) sum c) times d) constant

**B) State whether each of the following statements are True or False (1 mark each)**

- i) Bivariate data is the observation recorded on two variables.
- ii)  $cov(x,y) = \frac{1}{n} \sum (x - \bar{x})(y - \bar{y})$
- iii) If  $0.3 < r < 0.8$ , there is moderate positive correlation.
- iv) The concept of a determinant was discussed by the German Mathematician G.W. Leibnitz.

**Q.2 Attempt any THREE of the following (3 marks each)**

- i) Evaluate  $\begin{vmatrix} 1 & i & 3 \\ i^3 & 2 & 5 \\ 3 & 2 & i^4 \end{vmatrix}$
- ii) Find the value of x if  $\begin{vmatrix} 2 & 3 \\ 4 & 5 \end{vmatrix} = \begin{vmatrix} x & 3 \\ 2x & 5 \end{vmatrix}$
- iii) Draw scatter diagram for the data given below and interpret it.

X	10	20	30	40	50	60	70
Y	32	20	24	36	40	28	38

- iv) Find correlation coefficient between  $x$  and  $y$  series for the following data  
 $n = 15$ ,  $\sum x = 25$ ,  $\sum y = 18$ ,  $\sigma_x = 3.01$ ,  $\sigma_y = 3.03$ ,  $\sum(x - \bar{x})(y - \bar{y}) = 122$ .

- v) Without expanding evaluate the determinants  $\begin{vmatrix} 1 & a & b+c \\ 1 & b & c+a \\ 1 & c & a+b \end{vmatrix}$

**Q.3 Attempt the following questions (Activity)**

- i) Apply cramer's Rule for the linear equation;  $x + y - z = 1$ ,  $8x + 3y - 6z = 1$ ,  $-4x - y + 3z = 1$ .

**Solution:**

$$D = \begin{vmatrix} 1 & 1 & -1 \\ 8 & 3 & -6 \\ -4 & -1 & 3 \end{vmatrix}$$

$$D_x = \begin{vmatrix} - & 1 & -1 \\ - & 3 & -6 \\ - & -1 & 3 \end{vmatrix} \quad D_y = \begin{vmatrix} 1 & - & -1 \\ 8 & - & -6 \\ -4 & - & 3 \end{vmatrix} \quad D_z = \begin{vmatrix} 1 & 1 & - \\ 8 & 3 & - \\ -4 & -1 & - \end{vmatrix}$$

$$x = \frac{D_x}{D} = \quad y = \frac{D_y}{D} = \quad z = \frac{D_z}{D} =$$

- ii) Find correlation coefficient between  $x$  and  $y$  for the following data and interpret it.

**Solution:** For finding correlation coefficient, we require  $\text{cov}(x,y)$  and  $x$  and  $y$

$x_i$	$y_i$	$x_i^2$	$y_i^2$	$x_i y_i$
1	12	1	144	12
2	11	4	121	22
3	13	9		39
4	15		225	60
5	14	25	196	70
6	17	36		102
7	16		256	112
8	19	64		152
9	18		324	
$\sum x_i = 45$	$\sum y_i = 135$	$\sum x_i^2 = 285$	$\sum y_i^2 = 2085$	$\sum x_i y_i = 731$

$$\bar{x} = \frac{\sum x_i}{n} = \frac{45}{9} = 5, \quad \bar{y} = \frac{\sum y_i}{n} = \frac{135}{9} = 15, \quad \text{COV}(X,Y) = \frac{1}{n} \sum x_i y_i - \bar{x} \bar{y} = \frac{1}{9} \times 731 - 5 \times 15 = 6.22$$

$$\sigma_x = \sqrt{\frac{1}{n} \sum x_i^2 - (\bar{x})^2} = \sqrt{6.66}, \quad \sigma_y = \sqrt{\frac{1}{n} \sum y_i^2 - (\bar{y})^2} = \sqrt{6.66}$$

$$r_{xy} = \frac{\text{cov}(x,y)}{\sigma_x \sigma_y} = 0.93$$

\*\*\*\*\*



Anjuman-i-Islam's  
**AKBAR PEERBHOY COLLEGE OF COMMERCE & ECONOMICS**  
 M.S.Alli Road, Do Taaki, Grant Road (E), Mumbai-400 008.

**Ind Unit Test - (Std.XI) – 2022-23**

**Subject: Economics      Marks: 25      Duration: 1 hrs      Date: 06/02/2023**

All the questions are compulsory.  
 Figures to right indicate full marks.

**Q-1 Find the odd word** (4)

- (A) 1- Agriculture sector  
 a) Plantation sector  
 b) Forestry  
 c) Fisheries  
 d) Restaurant
- 2- Concept related to population growth.  
 a) Birth rate      b) Death rate      c) Interest rate      d) Survival rate
- 3- Statistics  
 a) Percentile      b) Mercantile      c) Decile      d) Quartile
- 4- Service Sector  
 a) Computer Service      b) Literacy      c) Land Reforms      d) Tourism

**Q.1- Give Economics Term** (4)

- 1) Strategy designed to improve the Economics and social life of Rural people \_\_\_\_\_
- 2) Difference between birth rate and death rate \_\_\_\_\_
- 3) Programme introduced to reduce birth rates in 1952 in India \_\_\_\_\_
- 4) Value that divide the series into ten Equal parts \_\_\_\_\_

**Q.1- ( C) Match the columns** (5)

A	B
1) India	a) 1921
2) Deciles	b) $i(n-1) \div \text{observation}$ 10
3) NABAAD	c) Backbone of Indian Economy
4) Agriculture	d) Agricultural Finance
5) The year of Great Divide	e) Largest Populated Country
	f) 1961

**Q.2- Do you agree ? Give reasons (any two)** (6)

- 1- Death rates are falling in India
- 2- Rural development is not significant in India
- 3- Population policy is successful in India
- 4- India is a country of Villages

**Q.3- Answer the following question (any 2)** (6)

- 1- Calculate D4 & D8 from the following data 10, 15, 7, 8, 12, 13, 14, 16,17
- 2- Explain the causes of high Birth Rate
- 3- Explain the types of Agricultures credit

**Anjuman-I-Islam's**  
**Akbar Peerbhoy College of Commerce & Economics**  
**FYJC 2nd Unit Test**

Sub: Secretarial Practice  
Date: 6<sup>th</sup> Feb, 2023

Duration: 1 Hour  
Marks: 25

**Q1) Select the correct answer from the options given below and rewrite the statements:(06)**

- 1) \_\_\_\_\_ is an unique identification number required to be a Director.  
a) PIN      b) DIN      c) TIN
- 2) An Extra Ordinary General Meeting is held under \_\_\_\_\_  
a) Once in a year      b) Once in the lifetime      c) Special Circumstances
- 3) The right of casting vote is given to the \_\_\_\_\_  
a) Director      b) Chairman      c) Secretary
- 4) \_\_\_\_\_ comprises a team of Directors.  
a) Board of Directors      b) Board of Trustees      c) Board of Managers
- 5) For passing a special resolution \_\_\_\_\_ majority is required.  
a) 51%      b) 66%      c) 75%
- 6) The Secretary has to Prepare \_\_\_\_\_ before the meeting.  
a) Resolution      b) notice      c) minutes

**Q2) Match the Pairs:**

- | <b>Group A</b>            | <b>Group B</b>               | <b>(05)</b> |
|---------------------------|------------------------------|-------------|
| 1. Annual General Meeting | a) At least 2 Director       |             |
| 2. Auditor                | b) Representative of Members |             |
| 3. Proxy                  | c) Record of Meeting         |             |
| 4. Private Company        | d) Once in the year          |             |
| 5. Minutes                | e) Auditors Report           |             |

**Q3) Explain the following Terms/Concept (Any Three):**

1. Director
  2. Minutes
  3. Quorum
  4. Annual General Meeting
- (06)**

**Q4) Answer in Brief (Any One):**

1. Explain the different methods of voting?
  2. Explain the different types of General Meeting?
- (08)**